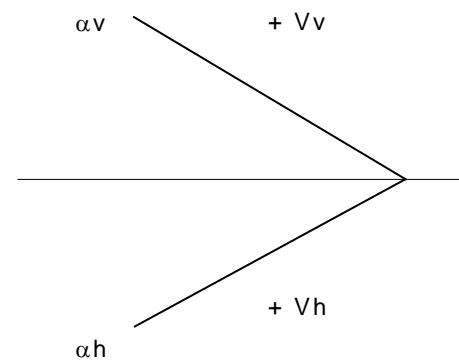
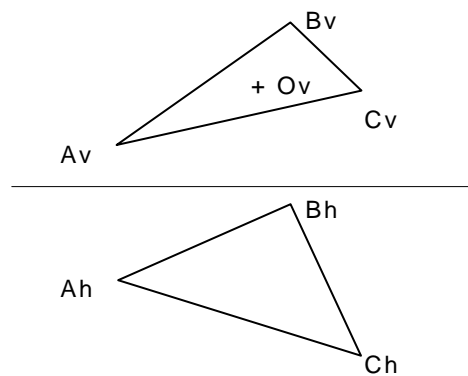
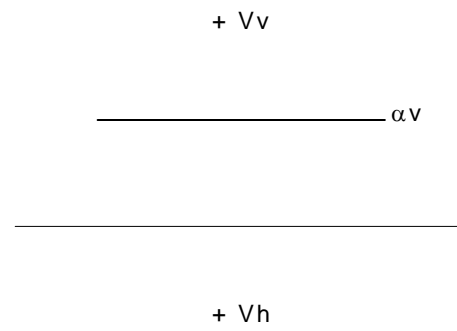
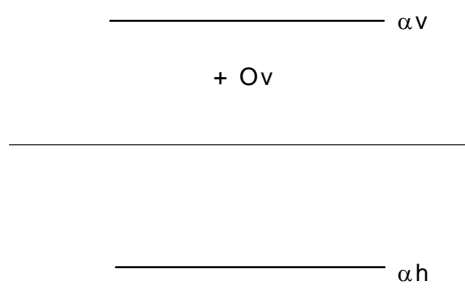
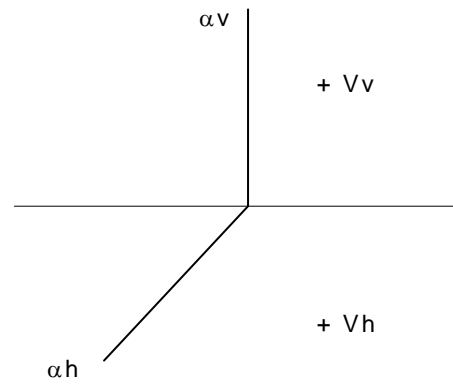
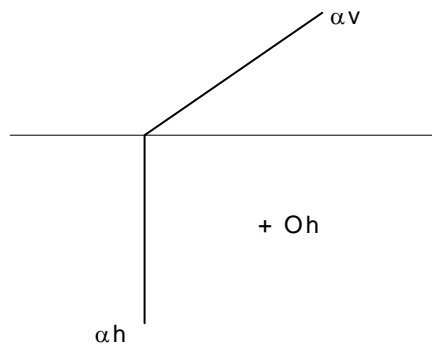


Dados el plano "α" y el punto "O" que pertenece al plano. Se pide levantar por el punto "O" una perpendicular "OV" al plano que mida 30 mm en cada uno de los casos.

Dados el plano "α" y el punto "V" exterior al plano. Se pide trazar por el punto "V" una perpendicular al plano y hallar la intersección "O" de la perpendicular en el plano α en cada uno de los casos.



Perpendicularidad entre recta y plano			
ULA	Departamento de Comunicación Visual - FAAULA	Profesores	Brunilde de Marquina Beatriz Sandía Jesús Castellanos
	Nombre	Sección	
	Fecha	Nota	
			15 A